

Question Booklet No. :-

प्रश्न पुस्तिका संख्या :-

**DO NOT OPEN THIS BOOKLET UNTIL TOLD TO DO SO**  
इस पुस्तिका को आदेश मिलने पर ही खोलें

Time Allowed : 3 Hours

अनुमत समय : 3 घंटे

Total No. Questions : 180

प्रश्नों की कुल संख्या : 180

Roll No. : \_\_\_\_\_

अनुक्रमांक :

Total No. of printed pages : 48

मुद्रित पृष्ठों की कुल संख्या : 48

Name of the Candidate (in capital letters) : .....

अभ्यर्थी का नाम :

Candidate's Signature

अभ्यर्थी के हस्ताक्षर .....

Invigilator's Signature

कक्ष निरीक्षक के हस्ताक्षर .....

READ THE FOLLOWING INSTRUCTIONS CAREFULLY BEFORE USING THIS BOOKLET		इस पुस्तिका को प्रयोग करने से पहले निम्नलिखित निर्देश ध्यानपूर्वक पढ़ें	
1.	This booklet contains 48 pages including the blank ones. As soon as you open the booklet, please ensure that all the pages are intact and printed correctly.	1.	इस प्रश्न-पुस्तिका में खाली पृष्ठों सहित 48 पृष्ठ हैं। जैसे ही आप प्रश्न-पुस्तिका खोलते हैं, यह सुनिश्चित करें कि सभी पृष्ठ मौजूद हैं एवं सही तरह से मुद्रित हैं।
2.	Candidates are allowed to take the Question booklet after the Examination is over.	2.	परीक्षा समाप्ति के उपरान्त अभ्यर्थी प्रश्न-पुस्तिका अपने साथ ले जा सकते हैं।
3.	Answer all the questions. All questions carry equal marks.	3.	सभी प्रश्नों के उत्तर दें। सभी प्रश्नों के अंक समान हैं।
4.	Each question carries four options ie. A, B, C and D. You have to mark correct option. You are advised not to devote more than one minute to answer a question.	4.	प्रत्येक प्रश्न के चार विकल्प A, B, C एवं D हैं। आपको इनमें से एक सही विकल्प चुनना है। आपको प्रत्येक प्रश्न के लिए एक मिनट से ज्यादा समय नहीं लगाने की सलाह दी जाती है।
5.	There would be negative marking of the value of 0.25 marks for each wrong answer. However, the marks secured by the candidates in this examination are not counted for the preparation of final selection list.	5.	प्रत्येक गलत उत्तर के लिये 0.25 का ऋणात्मक अंकन होगा। लेकिन फिर भी अभ्यर्थी द्वारा इस परीक्षा में अर्जित अंकों को चयन सूची बनाते समय गणना में नहीं लिया जायेगा।
6.	All rough work should be done only on the blank pages provided for this purpose at the end of this Booklet. No extra page will be provided.	6.	सभी कच्चे कार्य इस प्रश्न-पुस्तिका के अन्त में दिये गये खाली पृष्ठों पर ही केवल किया जाना है। कोई भी अतिरिक्त पृष्ठ प्रदान नहीं किया जायेगा।
7.	No candidate will be allowed to leave the examination hall during the exam. Candidates are allowed to leave the hall only after the OMR Sheets from all have been collected and accounted for.	7.	परीक्षा के दौरान किसी भी अभ्यर्थी को परीक्षा कक्ष छोड़ने की अनुमति प्रदान नहीं की जायेगी। अभ्यर्थी को सभी OMR उत्तर पत्रिका कक्ष निरीक्षक द्वारा वापस ले लिये जाने एवं इसकी गणना पूरी हो जाने पर ही परीक्षा कक्ष छोड़कर जाने के लिए अनुमति प्रदान की जाती है।
8.	Questions in this booklet span across the following section:	8.	इस पुस्तिका में प्रश्न निम्न खण्डों में विभाजित हैं:-

		Marks
Part-A	General Intelligence (60 Questions)	60
Part-B	General Awareness (60 Questions)	60
Part-C	English Language (60 Questions)	60
TOTAL		180
9.		9.
Total Marks allotted		180
No. of Questions		180
Time allotted		3 Hours
Sectional time limit		No
Sectional cut off		No
Negative marking		Yes

		अंक
खण्ड-A	सामान्य बुद्धिमत्ता (60 प्रश्न)	60
खण्ड-B	सामान्य ज्ञान (60 प्रश्न)	60
खण्ड-C	अंग्रेजी भाषा (60 प्रश्न)	60
योग		180
9.		9.
कुल अंक		180
प्रश्नों की कुल संख्या		180
अनुमत समय		3 घंटे
खण्ड समय सीमा		नहीं
खण्ड कट ऑफ		नहीं
ऋणात्मक अंकन		हाँ

## PART-A (GENERAL INTELLIGENCE)

1. **A is father of C and D is son of B. E is the brother of A. If C is sister of D, how is B related to E?**

- |                   |                  |
|-------------------|------------------|
| A. Brother-in-law | B. Husband       |
| C. Daughter       | D. Sister-in-law |

DIRECTIONS: (Question no. 2 to 4) Read the following information carefully and answer the questions given below.  
In a family, there are six members A, B, C, D, E, and F. A and B are married couples, and A is the male member. E is the sister of D. D is the only son of C, who is the brother of A. B is the daughter-in-law of F, whose husband has died.

2. **How is F related to A?**

- |                  |                  |
|------------------|------------------|
| A. Mother        | B. Sister-in-law |
| C. Mother-in-law | D. Sister        |

3. **Who is C to B?**

- |                   |            |
|-------------------|------------|
| A. Brother-in-law | B. Brother |
| C. Son-in-law     | D. Nephew  |

4. **How many male members are there in the family?**

- |          |         |
|----------|---------|
| A. One   | B. Two  |
| C. Three | D. Four |

DIRECTIONS: (Question no. 5 to 7) Each of the following questions consists of two words that have a certain relationship to each other, followed by four lettered pairs of the words. Select that lettered pair which has the same relationship as the original pair of words.

5. **Fish : Shoal**

- A. Audience : Theatre
- B. Whale : Herd
- C. Elephant : Flock
- D. Shark : School

6. **Range : Mountain**

- A. Point : Line
- B. School : Class
- C. Bouquet : Flower
- D. String : Bead

7. **Indra : Rainfall**

- A. Shiv : Creation
- B. Venus : War
- C. Shakespeare : Drama
- D. Cupid : Love

## खण्ड-A (सामान्य बुद्धिमत्ता)

1. A पिता है C का तथा D पुत्र है B का। E भाई है A का। अगर C बहन है D की, तो B का E से क्या संबंध है?

- |           |         |
|-----------|---------|
| A. साला   | B. पति  |
| C. पुत्री | D. भाभी |

निर्देश: (प्रश्न संख्या 2 से 4) निम्नलिखित सूचना ध्यानपूर्वक पढ़ें एवं नीचे दिये प्रश्नों का उत्तर दें। A, B, C, D, E, एवं F छः सदस्य हैं। A तथा B विवाहित हैं। A पुरुष सदस्य है। E बहन है D की। D एक मात्र पुत्र है C का, जो भाई है A का। B, 'F' की पुत्र वधू है जिसका पति स्वर्गवासी है।

2. F किस तरह से संबंधित है A से?

- |         |         |
|---------|---------|
| A. माता | B. साली |
| C. सास  | D. बहन  |

3. B का C कौन है?

- |          |          |
|----------|----------|
| A. देवर  | B. भाई   |
| C. दामाद | D. भांजा |

4. परिवार में कितने पुरुष सदस्य हैं?

- |        |        |
|--------|--------|
| A. एक  | B. दो  |
| C. तीन | D. चार |

निर्देश: (प्रश्न संख्या 5 से 7) निम्नलिखित प्रश्नों में प्रत्येक में दो शब्द हैं जिनका आपस में निर्दिष्ट संबंध है साथ ही शब्दों के चार अक्षरित जोड़े हैं। उन अक्षरित जोड़ों का चयन करें जिनका वही सम्बन्ध है जो मौलिक शब्दों के जोड़ों जैसा है।

5. मछली : माधस्थल (शोल)

- |                    |
|--------------------|
| A. श्रोता : थियेटर |
| B. व्हेल : हर्ड    |
| C. हाथी : फ्लॉक    |
| D. शार्क : स्कूल   |

6. रेंज : पर्वत

- |                  |
|------------------|
| A. पॉइन्ट : लाईन |
| B. स्कूल : क्लास |
| C. बुके : फूल    |
| D. माला : मोती   |

7. इन्द्र : वर्षा

- |                     |
|---------------------|
| A. शिव : सृष्टि     |
| B. शुक्र : युद्ध    |
| C. शेक्सपीयर : नाटक |
| D. कामदेव : प्रेम   |

DIRECTIONS: (Question no. 8 to 10) In each of the following questions, four words have been given, out of which three are alike in some manner, while the fourth one is different.

8. Choose out the odd one.

- A. Anger
- B. Grief
- C. Humorous
- D. Kindness

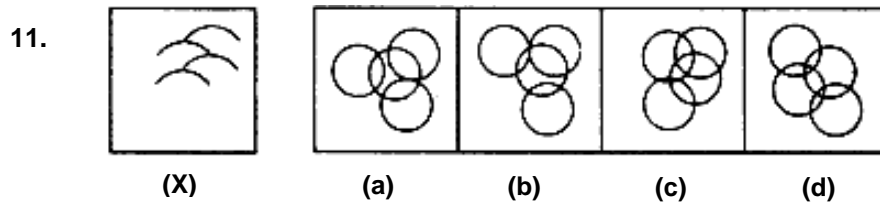
9. Choose out the odd one.

- A. Tiger
- B. Dolphin
- C. Elephant
- D. Crocodile

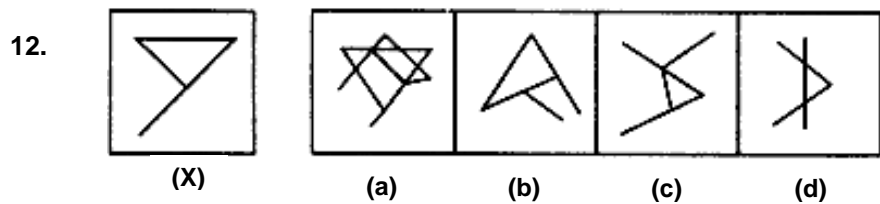
10. Choose out the odd one

- A. Phi
- B. Gamma
- C. Peso
- D. Beta

DIRECTIONS: (Question no. 11 & 12) In each of the following questions, you are given a fig (X) followed by four alternative figures (a), (b), (c), and (d) such that fig (X) is embedded in one of them. Trace out the alternative figure which contains the fig (X).



- A. (a)
- B. (b)
- C. (c)
- D. (d)



- A. (a)
- B. (b)
- C. (c)
- D. (d)

निर्देश: (प्रश्न संख्या 8 से 10) निम्नलिखित प्रत्येक प्रश्न में चार शब्द हैं जिनमें से तीन का किसी न किसी रूप में समान अर्थ है जबकि चौथा अलग है।

8. विषम को चुनें।

- A. क्रोध
- B. शोक
- C. हास्यास्पद
- D. दयालुता

9. विषम को चुनें।

- A. बाघ
- B. डॉलफिन
- C. हाथी
- D. मगरमच्छ

10. विषम को चुनें।

- A. फाई
- B. गामा
- C. पेसो
- D. बिटा

निर्देश: (प्रश्न संख्या 11 एवं 12) निम्नलिखित प्रत्येक प्रश्न में आपको छवि (X) दी गई है तथा चार वैकल्पिक छवि (a), (b), (c) तथा (d) इस तरह से दी गई कि छवि (X) उनमें से एक में अन्तःस्थापित है। विकल्प छवि का पता लगायें जिसमें छवि (X) शामिल है।

11.



(X)



(a)

(b)

(c)

(d)

- A. (a)
- B. (b)
- C. (c)
- D. (d)

12.



(X)



(a)

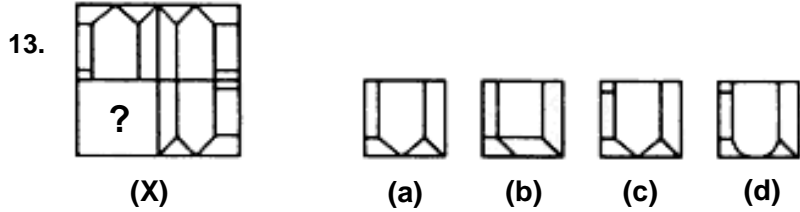
(b)

(c)

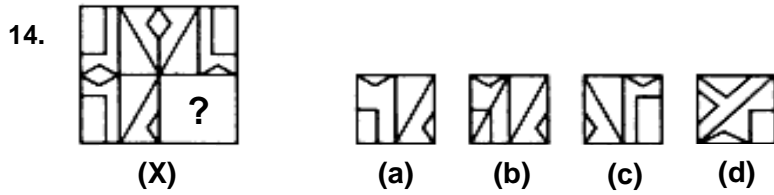
(d)

- A. (a)
- B. (b)
- C. (c)
- D. (d)

DIRECTIONS: (Question no. 13 & 14) In each of the following questions, complete the missing portion (?) of the given pattern by selecting from the given alternatives (a), (b), (c), and (d).



- A. (a)
- B. (b)
- C. (c)
- D. (d)



- A. (a)
- B. (b)
- C. (c)
- D. (d)

15. If OVER is coded as RZJX, and US as XW, then STEM is coded as

- A. VUJX
- B. XJID
- C. VXJS
- D. XVUW

16. If IIII stands for 3, III for 2, II for 1, and I for 0, solve the following.

$$IIII - II \times I + III \times II - II = ?$$

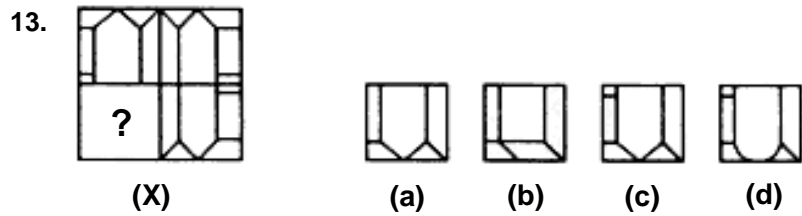
- A. IIIIII
- B. IIIII
- C. III
- D. IV

17. If BUILDING is coded as CVJMEJOH and INSTITUTE is coded as JOTUJUVUF, what will be the codes for the following?

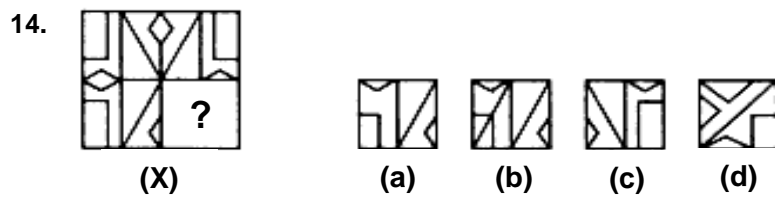
**LUCKNOW and PATNA**

- A. MVDLOPX and QBUOB
- B. MUDLOPY and QBUOB
- C. MVDPLOX and QAUOB
- D. MVDLOPY and QBUOB

निर्देश: (प्रश्न संख्या 13 एवं 14) निम्नलिखित प्रत्येक प्रश्न में, दिये गए विकल्पों (a), (b), (c) एवं (d) से दिये गए पैटर्न में विलुप्त भाग (?) को पूर्ण करें।



- A. (a)  
B. (b)  
C. (c)  
D. (d)



- A. (a)  
B. (b)  
C. (c)  
D. (d)

15. अगर OVER को RZJX कोड करते हैं तथा US का XW कोड है, तब STEM का कोड क्या होगा:

- A. VUJX  
B. XJID  
C. VXJS  
D. XVUW

16. अगर IIII के लिए 3, III के लिए 2, II के लिए 1, तथा I के लिए 0 है तो निम्नलिखित को हल करें।

$$IIII - II \times I + III \times II - II = ?$$

- A. IIIIII  
B. IIIII  
C. III  
D. IV

17. यदि BUILDING का कोड CVJMEJOH तथा INSTITUTE का कोड JOTUJUVUF है, तो निम्नलिखित का कोड क्या होगा?

LUCKNOW तथा PATNA

- A. MVDLOPX तथा QBUOB  
B. MUDLOPY तथा QBUOB  
C. MVDPLOX तथा QAUOB  
D. MVDLOPY तथा QBUOB

18. If R and U are coded as 9 and 6 respectively, how will you code ACCOMMODATE?
- A. 26-24-24-12-14-14-23-22-26-07-22
  - B. 26-24-24-12-14-14-12-23-26-07-22
  - C. 2-3-3-5-12-14-14-1-15-5-18
  - D. 2-3-3-9-8-8-9-4-1-18-5
19. What is the seventh number in series 4, 7, 12, 21, 38?
- A. 144
  - B. 136
  - C. 140
  - D. 214
20. What will be the sixth term in the following series?
- 10, 18, 27, 42, 68**
- A. 96
  - B. 98
  - C. 106
  - D. 110
21. Identify the third term in the series 18, 54, ?, 486,
- A. 146
  - B. 162
  - C. 170
  - D. 175
22. 8, 24, 12, 36, 18, 54, ?
- A. 27
  - B. 68
  - C. 72
  - D. 108
23. Here are four groups of letters, three of them are alike in some way or other while one is different. Identify the one which is different from others.
- A. ccc ggg kkk
  - B. kkk ooo sss
  - C. mmm qq q ttt
  - D. ttt xxx bbb
24. Out of the following four numbers, one does not belong to the same classification. All others resemble each other in one way or other. Find out the odd one
- A. 521639
  - B. 256319
  - C. 344258
  - D. 334429



18. अगर R तथा U का कोड क्रमशः 9 और 6 है, तब आप ACCOMMODATE को कैसे कोड करेंगे?
- A. 26-24-24-12-14-14-23-22-26-07-22  
 B. 26-24-24-12-14-14-12-23-26-07-22  
 C. 2-3-3-5-12-14-14-1-15-5-18  
 D. 2-3-3-9-8-8-9-4-1-18-5
19. इस 4, 7, 12, 21, 38 सीरीज की सातवीं संख्या क्या है?
- A. 144  
 B. 136  
 C. 140  
 D. 214
20. निम्नलिखित सीरीज में छठा पद क्या होगा?
- 10, 18, 27, 42, 68**
- A. 96  
 B. 98  
 C. 106  
 D. 110
21. इस सीरीज में तीसरे पद को पहचानें।
- 18, 54, ?, 486**
- A. 146  
 B. 162  
 C. 170  
 D. 175
22. 8, 24, 12, 36, 18, 54, ?
- A. 27  
 B. 68  
 C. 72  
 D. 108
23. यहाँ अक्षरों के चार समूह हैं, जिनमें तीन किसी न किसी रूप में समान हैं जबकि एक असमान है। पहचानें कि कौन-सा अन्य से भिन्न है।
- A. ccc ggg kkk  
 B. kkk ooo sss  
 C. mmm qq q ttt  
 D. ttt xxx bbb
24. निम्नलिखित चार संख्याओं में से एक उसी वर्ग का नहीं है। बाकी सभी किसी न किसी रूप में एक दूसरे से मिलते हैं। बेमेल को चिन्हित करें:
- A. 521639  
 B. 256319  
 C. 344258  
 D. 334429

25. Out of the following four numbers, one does not belong to the same classification. All others resemble each other in one way or other. Find out the odd one
- A. 11, 3, 3, 5, 17
  - B. 41, 5, 3, 11, 71
  - C. 37, 14, 19, 13, 7
  - D. 67, 71, 3, 5, 17

26. Out of the following four numbers, one does not belong to the same classification. All others resemble each other in one way or other. Find out the odd one
- A.  $37037 \times 3$
  - B.  $37037 \times 4$
  - C.  $37037 \times 6$
  - D.  $37037 \times 12$

DIRECTIONS: (Question no. 27 to 29) In the following questions fill in the blank space with correct alternative that satisfies the same relationship as is found between two terms on the left hand side of the sign (::)

27. **Dinosaur: Dragon:: \_\_\_\_\_:\_\_\_\_\_**

- A. Snow : Ice
- B. Primeval : Medieval
- C. Evolution : Revelation
- D. Gorilla : Soldier

28. **Sky: Sea:: \_\_\_\_\_: \_\_\_\_\_**

- A. Terrace : Parking Lot
- B. Soldier : Rifle
- C. Hat : Shoe
- D. Roof : Top

29. **Barometer: Pressure:: \_\_\_\_\_: \_\_\_\_\_**

- A. Tachometer : Speed
- B. Viscometer : Fluids
- C. Chronometer : Weight
- D. Penetrometer : Friability

30. **SUGAR is related to SACCHARIN in the same way as BUTTER is related to**

- A. Salt
- B. Margarine
- C. Pepper
- D. Spice

31. **WATER is related to ICE in the same as LAVA is related to**

- A. Rock
- B. Ash
- C. Flake
- D. Pebble

25. निम्नलिखित चार संख्याओं में से एक उसी वर्ग का नहीं है। बाकी सभी किसी न किसी रूप में एक दूसरे से मिलते हैं। बेमेल को चिन्हित करें:
- A. 11, 3, 3, 5, 17  
B. 41, 5, 3, 11, 71  
C. 37, 14, 19, 13, 7  
D. 67, 71, 3, 5, 17

26. निम्नलिखित चार संख्याओं में से एक उसी वर्ग का नहीं है। बाकी सभी किसी न किसी रूप में एक दूसरे से मिलते हैं। बेमेल को चिन्हित करें:
- A.  $37037 \times 3$   
B.  $37037 \times 4$   
C.  $37037 \times 6$   
D.  $37037 \times 12$

निर्देश: (प्रश्न संख्या 27 से 29) निम्नलिखित प्रश्नों में रिक्त स्थानों में सही विकल्प चुनकर भरें जो वही सम्बन्ध संतुष्ट करते हैं जो (: :) चिन्ह के बांये तरफ लिखे दो पदों के बीच है।

27. डायनासोर : ड्रैगन :: ..... : .....

- A. हिमपात : बर्फ  
B. आदिकालीन : मध्यकालीन  
C. उद्भव : आविर्भाव  
D. गोरिल्ला : सैनिक

28. आकाश : समुद्र :: ..... : .....

- A. चबूतरा : पार्किंग स्थल  
B. सैनिक : रायफल  
C. टोप : जूता  
D. छत : शीर्ष

29. बैरोमीटर : दबाव :: ..... : .....

- A. टैकोमीटर : गति  
B. विस्कोमीटर : तरल  
C. क्रोनोमीटर : वनज  
D. पेनेट्रोमीटर : भुरभुरापन

30. शक्कर का सैकरीन के साथ वही संबंध है जो मक्खन का:

- A. नमक के साथ  
B. मार्जरीन के साथ  
C. काली मिर्च के साथ  
D. मसाला के साथ

31. जल का बर्फ के साथ वही संबंध है जो लावा का।

- A. चट्टान के साथ  
B. राख के साथ  
C. चिंगारी के साथ (फ्लेक)  
D. कंकड़ के साथ

DIRECTIONS: (Question no. 32 to 35) In each question below are given two statements followed by two or more conclusions numbered I, II and III etc. Read the conclusions and then decide which of the given conclusions logically follows from the given statements, disregarding commonly known facts.

32. **Statement: All young scientists are open-minded. No open-minded men are illogical.**

**Conclusions:**

- I. **No scientist is illogical.**
- II. **No young people are illogical.**
- A. Only conclusion I follows.
- B. Only conclusion II follows.
- C. Both conclusion I and II follow.
- D. Neither conclusion I nor II follows.

33. **Statement: Some books are pens. Some pencils are pens.**

**Conclusions:**

- I. **Some pens are pencils.**
- II. **Some pens are books.**
- A. Only conclusion I follows.
- B. Only conclusion II follows.
- C. Both conclusions I and II follow.
- D. Neither conclusion I nor II follows.

34. **Statement: No box is toy. All toys are cars.**

**Conclusions:**

- I. **Some cars are toys.**
- II. **Some cars are boxes.**
- III. **No car is box.**
- A. Only I follows
- B. Only either II or III follows
- C. Only either II or III, and I follow
- D. None follows

35. **Statement: Some glasses are bottles. All bottles are cups.**

**Conclusions:**

- I. **Some glasses are cups.**
- II. **Some cups are bottles.**
- III. **All bottles are glasses.**
- IV. **All cups are bottles.**
- A. Only I and II follow
- B. Only II and III follow
- C. Only II and IV follow
- D. Only III and IV follow

निर्देश: (प्रश्न संख्या 32 से 35) नीचे के प्रत्येक प्रश्न में दो कथन दिये गये हैं साथ ही दो या अधिक निष्कर्ष I, II तथा III भी दिये गये हैं। निष्कर्षों को पढ़ें तथा सामान्यतया ज्ञात तथ्यों की उपेक्षा करते हुए निर्णय करें कि दिया गया कौन-सा निष्कर्ष दिये गये कथनों से तर्कसंगत है।

32. कथन : सभी युवा वैज्ञानिक खुले मिजाज के हैं। कोई भी खुले मिजाज के व्यक्ति तर्कहीन नहीं हैं।

निष्कर्ष :

- I. कोई भी वैज्ञानिक तर्कहीन नहीं है।
- II. कोई भी युवा लोक तर्कहीन नहीं है।
- A. केवल निष्कर्ष I है।
- B. केवल निष्कर्ष II है।
- C. दोनों निष्कर्ष I तथा II हैं।
- D. दोनों निष्कर्ष I अथवा II में कोई भी नहीं है।

33. कथन : कुछ किताबें पेन हैं। कुछ पेन्सिल पेन हैं।

निष्कर्ष :

- I. कुछ पेन पेन्सिल हैं।
- II. कुछ पेन किताबें हैं।
- A. केवल निष्कर्ष I है।
- B. केवल निष्कर्ष II है।
- C. दोनों निष्कर्ष I तथा II हैं।
- D. दोनों निष्कर्ष I अथवा II में कोई भी नहीं है।

34. कथन : कोई बक्सा खिलौना नहीं है। सभी खिलौने कार हैं।

निष्कर्ष :

- I. कुछ कार खिलौने हैं।
- II. कुछ कार बक्से हैं।
- III. कोई कार बक्सा नहीं है।
- A. केवल I है।
- B. केवल II अथवा III हैं।
- C. केवल II अथवा III में कोई, तथा I है।
- D. कोई भी नहीं है।

35. कथन : कुछ गिलास बोतलें हैं। सभी बोतलें कप हैं।

निष्कर्ष :

- I. कुछ गिलास कप हैं।
- II. कुछ कप बोतलें हैं।
- III. सभी बोतलें गिलास हैं।
- IV. सभी कप बोतलें हैं।
- A. केवल I तथा II हैं।
- B. केवल II तथा III हैं।
- C. केवल II तथा IV हैं।
- D. केवल III तथा IV हैं।

DIRECTIONS: (Question no. 36 to 38) Each question given below consists of a statement, followed by two or more arguments numbered I, II and III etc. You have to decide which one of the arguments is a 'strong' argument.

36. **Statement: Should young entrepreneurs be encouraged?**

**Arguments:**

I. **Yes, they will reduce the burden on employment market.**

II. **Yes, they will help in industrial development of the country.**

A. Only I is strong

B. Only II is strong

C. Neither I nor II is strong

D. Both I and II are strong

37. **Statement: Is ragging in colleges a good practice?**

**Arguments:**

I. **Yes, ragging helps the students to understand each other and teaches them to take trifles in a good humour.**

II. **No, the tortures inflicted in the name of ragging often go beyond limits and students suffer humiliation.**

A. Only I is strong

B. Only II is strong

C. Neither I nor II is strong

D. Both I and II are strong

38. **Statement: Should India acquire/manufacture the latest nuclear weapon?**

**Arguments:**

I. **Yes. The enemies of India are improving their weapons and it becomes imperative to protect the integrity of the country.**

II. **No. Instead the money should be diverted to development activities.**

III. **No. The international community will isolate Indians and this will bring a setback to Indian economy.**

IV. **No. It will be against our policy of maintaining world peace.**

A. Only I is strong

B. Only I and IV are strong

C. Only I, II and IV are strong

D. All are strong

DIRECTIONS: (Question no. 39 to 41) In each question below is given a statement followed by courses of action. You have to assume everything in the statement to be true and on the basis of the information given in the statement, and decide which of the suggested courses of action logically follow(s) for pursuing.

39. **Statement: Most of the development plans develop in papers only.**

**Courses of action:**

I. **The in-charges should be instructed to supervise the field work regularly.**

II. **The supply of paper in such departments should be cut short.**

A. Only I follows

B. Only II follows

C. Neither I nor II follows

D. Both I and II follow

निर्देश: (प्रश्न संख्या 36 से 38) नीचे के प्रत्येक प्रश्न में एक कथन है जिस पर दो या अधिक तर्क I, II तथा III इत्यादि संख्यांकित हैं। आपको यह निर्णय करना है कि कौन-सा तर्क 'मजबूत' है।

36. कथन : क्या युवा उद्यमकर्ताओं को प्रोत्साहित किया जाना चाहिए?

तर्क :

- I. हाँ, वे रोजगार अवसर पर बोलन कम करेंगे।
- II. हाँ, वे देश के औद्योगिक विकास में मदद करेंगे।
- A. केवल I मजबूत है।
- B. केवल II मजबूत है।
- C. I अथवा II दोनों में कोई भी मजबूत नहीं है।
- D. दोनों I तथा II मजबूत हैं।

37. कथन : क्या कॉलेजों में रैगिंग अच्छी परम्परा है?

तर्क :

- I. हाँ, रैगिंग छात्रों को एक दूसरे को समझने एवं छोटी-छोटी तुच्छ बातों को हंसी में उड़ा देने की कला सीखने में मदद करती है।
- II. नहीं, रैगिंग के नाम पर की गई प्रताड़ना प्रायः अपनी सीमा लांघ जाती है तथा छात्र अपमान भाव से ग्रस्त हो जाते हैं।
- A. यदि केवल I मजबूत है।
- B. यदि केवल II मजबूत है।
- C. यदि I अथवा II दोनों में कोई भी मजबूत नहीं है।
- D. यदि दोनों I तथा II मजबूत हैं।

38. कथन : क्या भारत अत्याधुनिक परमाणु हथियार प्राप्त/निर्माण करना चाहिए?

तर्क :

- I. हाँ, भारत के शत्रु अपनी हथियारों में बढ़ोत्तरी कर रहे हैं और यह देश की एकता की सुरक्षा हेतु आवश्यक हो जाता है।
- II. नहीं, बदले में रुपयों को विकास कार्यों में लगाया जाना चाहिए।
- III. नहीं, अन्तर्राष्ट्रीय समुदाय भारत को अलग कर देगा और इससे भारतीय अर्थव्यवस्था में रुकावट पैदा होगी।
- IV. नहीं, यह विश्व शान्ति बनाये रखने की हमारी नीति के खिलाफ होगी।
- A. केवल I मजबूत है।
- B. केवल I तथा IV मजबूत हैं।
- C. केवल I, II तथा IV मजबूत हैं।
- D. सभी मजबूत हैं।

निर्देश: (प्रश्न संख्या 39 से 41) प्रत्येक प्रश्न में एक कथन एवं उसके बाद उससे संबंधित कार्ययोजना दी गई है। आप कथन को सत्य मानकर तथा कथन में दी गयी सूचना के आधार पर निर्णय करें कि सुझायी गई कौन-सी कार्ययोजना का अनुसरण तर्कसंगत है।

39. कथन : अधिकतर विकास योजनाएं केवल कागजों पर विकसित होती हैं।

कार्ययोजना :

- I. प्रभारियों को नियमित रूप से क्षेत्र कार्य का निरीक्षण करने का निर्देश दिया जाना चाहिए।
- II. इन विभागों में कागजों की आपूर्ति काटी जानी चाहिए।
- A. केवल I का अनुसरण होता है।
- B. केवल II का अनुसरण होता है।
- C. न तो I न ही II का अनुसरण होता है।
- D. दोनों I तथा II का अनुसरण होता है।

40. **Statement: Every year thousands of eligible students do not get admission in colleges both in urban and rural areas after passing their school.**

**Courses of action:**

- I. **More colleges should be set up in both urban and rural areas.**
- II. **More schools should offer vocational courses to equip students for taking up their vocation after completing their school education.**

- A. Only I follows
- B. Only II follows
- C. Neither I nor II follows
- D. Both I and II follow

41. **Statement: The weather bureau has through a recent bulletin forecast heavy rainfall during the next week which may cause water logging in several parts of the city.**

**Courses of action:**

- I. **The bulletin should be given wide publicity through the mass media.**
- II. **The civic authority should keep in readiness the pumping system for removal of water from these parts.**
- III. **The people should be advised to stay indoors during the periods.**

- A. Only I follows
- B. Only I and II follow
- C. Only II follows
- D. Only II and III follow

DIRECTIONS: (Question no. 42 to 46) In each of the following questions, four probable answers have been given as alternatives. Select the most appropriate alternative as the answer.

42. **Your friend has lost his/her bag with your important document in it. You would**

- A. Feel angry but do not react as anyone can make mistake
- B. Feel angry and ask him/her to replace/duplicate the document
- C. Understand the situation and tell him/her that it's ok and not to worry about it.
- D. Blame him/her for being careless and stop talking to him/her.

43. **If someone approaches you with an offer of giving out secrets of your organization, in exchange for a higher position in another organization, you would**

- A. Be in a state of dilemma
- B. Ask for time to think
- C. Immediately say yes
- D. Immediately say no

44. **You are driving a car on the road when you hit against a vendor's cart accidentally. You would**

- A. Escape from the site by driving away
- B. Blame the vendor for putting his cart on the way
- C. Pay the vendor for the damage done to him
- D. Insist that it was not your fault

45. **To be an ideal manager, you should**

- A. Stick to the rules
- B. Present yourself as an example
- C. Be authoritarian in your approach
- D. Organize seminars for your subordinates

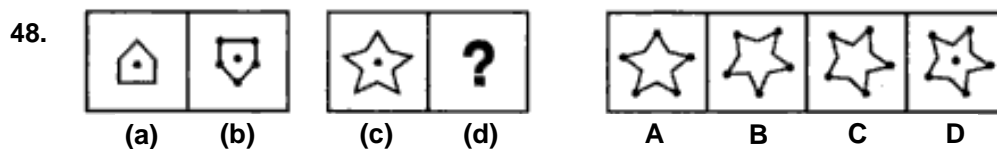
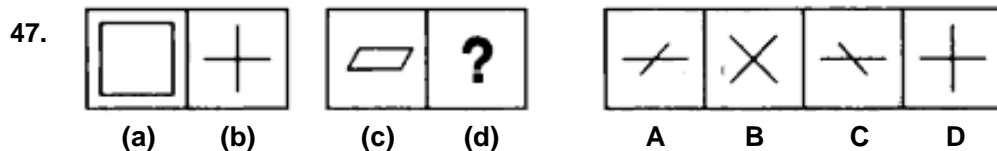
46. **You are living in a hostel. The Pulse served to you has a lot of stones. What would you do?**

- A. Leave eating the pulse altogether
- B. Bring the matter to the notice of mess in-charge
- C. Speak to the cook about changing the pulse
- D. Buy your own pulse and cook it in your room.



40. कथन : प्रति वर्ष स्कूल से उत्तीर्ण होने के बाद शहरी एवं ग्रामीण क्षेत्रों में हजारों योग्य छात्र कॉलेजों में प्रवेश नहीं पाते हैं।  
कार्ययोजना :
- शहरी एवं ग्रामीण क्षेत्रों में अधिक कॉलेज स्थापित किये जाने चाहिए।
  - अधिक स्कूलों में व्यावसायिक पाठ्यक्रम चलाये जाने चाहिए ताकि छात्र स्कूली शिक्षा पूरी करने के बाद अपनी आजीविका शुरू कर सकें।
- A. केवल I है। B. केवल II है।  
C. न तो I न ही II है। D. दोनों I तथा II हैं।
41. कथन : मौसम ब्यूरो ने हाल की बुलेटिन में भविष्यवाणी की है कि अगले सप्ताह भारी वर्षा होगी जिसके कारण शहर के कई क्षेत्रों में जल भराव होगा।  
कार्ययोजना :
- बुलेटिन का जनसंचार के माध्यम से विस्तृत प्रचार किया जाना चाहिए।
  - नगरपालिका को इन भागों से जल निकासी हेतु पम्पिंग प्रणाली को दुरुस्त रखना चाहिए।
  - इस दौरान जनता को भीतर ही रहने की सलाह दी जानी चाहिए।
- A. केवल I है। B. केवल I तथा II हैं।  
C. केवल II है। D. केवल II तथा III हैं।
- निर्देश: (प्रश्न संख्या 42 से 46) निम्नलिखित प्रत्येक प्रश्नों के चार संभाव्य उत्तर विकल्प के रूप में दिये गये हैं। सबसे उपयुक्त विकल्प का उत्तर के रूप में चयन करें।
42. आपके मित्र ने अपना बैग आपके महत्वपूर्ण दस्तावेजों के साथ खो दिया। आप
- नाराजगी महसूस करेंगे लेकिन प्रतिक्रिया नहीं देंगे क्योंकि कोई भी गलती कर सकता है।
  - नाराजगी महसूस करेंगे तथा उससे कहेंगे कि कागजात की प्रतिलिपि प्रदान करें।
  - स्थिति को समझेंगे तथा उससे कहेंगे कि सब ठीक है एवं इस विषय में चिन्ता की जरूरत नहीं है।
  - लापरवाही के लिए उस पर इल्जाम लगायेंगे और उससे बातचीत बंद कर देंगे।
43. दूसरे संगठन में उच्च पद देने के एवज में कोई अगर आपके संगठन की गुप्त बातें बताने का प्रस्ताव देता है तो आप।
- असमंजस की स्थिति में होंगे।
  - सोचने के लिए समय माँगेंगे
  - तुरंत हाँ कहेंगे।
  - तरंत ना कहेंगे।
44. सड़क पर कार चलाते वक्त दुर्घटनावश विक्रेता के ठेले को धक्का मार देते हैं तो आप
- कार चलाकर उस जगह से भाग जायेंगे।
  - रास्ते पर ठेला रखने के लिए विक्रेता पर इल्जाम लगायेंगे।
  - विक्रेता को हुए नुकसान की भरपाई करेंगे।
  - अड़ जायेंगे कि इसमें आपकी गलती नहीं थी।
45. एक आदर्श प्रबंधक बनने के लिए आपको:
- नियमों से बंधा होना चाहिए।
  - अपने आपको एक उदाहरण के तौर पर प्रस्तुत करना चाहिए।
  - अपने कार्य पद्धति में सत्तावादी होना चाहिए।
  - अपने मातहतों के लिए संगोष्ठी का आयोजन करना चाहिए।
46. आप एक छात्रावास में रह रहे हैं। परोसी गयी दाल में बहुत सारे कंकड़ हैं। आप क्या करेंगे?
- दाल खाना पूरी तरह छोड़ देंगे।
  - इस मामले को भोजनालय प्रभारी के संज्ञान में लायेंगे
  - दाल बदलने के लिए बाबर्ची से बात करेंगे
  - आप स्वयं दाल खरीदेंगे और अपने कक्ष में इसे पकायेंगे।

DIRECTIONS: (Question no. 47 & 48) Each of the following questions consists of two sets of figures. Figure (a), (b), (c), & (d) constitute the problem set while figures A, B, C & D constitute the answer set. There is a definite relationship between figure (a) and (b). Establish a similar relationship between figure (c) and (d) by choosing a suitable figure from the answer set.



49. The sale price of an article including the sales tax is Rs. 1232. The rate of sales tax is 10%. If the shopkeeper has made a profit of 12%, then the cost price of the article is Rs.

- A. 900
- B. 950
- C. 1000
- D. 1120

50. A man bought some mangoes at Rs 12 per dozen and bought the same number of mangoes at Rs 10 per dozen. He sold these mangoes at Rs 13 per dozen and gained Rs 160. The total number of mangoes bought by him was:

- A. 60 dozens
- B. 70 dozens
- C. 80 dozens
- D. 90 dozens

51. A dishonest dealer uses a scale of 90 cm instead of a meter scale and claims to sell at cost price. His profit is:

- A. 9%
- B. 10%
- C. 10.33%
- D. 11.11%

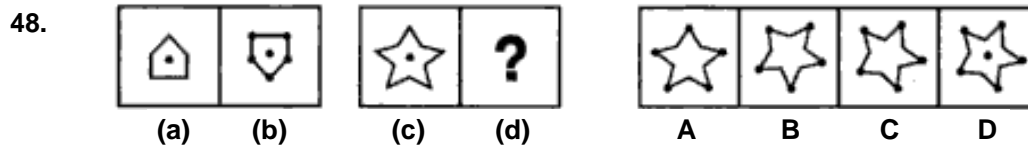
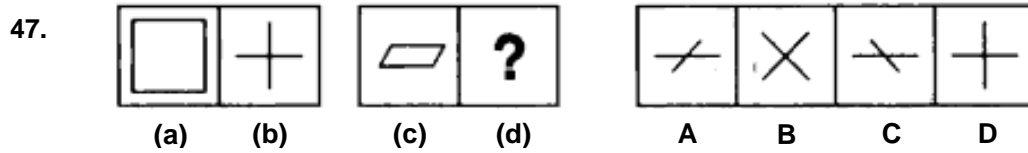
52. Two whole numbers whose sum is 84 cannot be in the ratio:

- A. 5 : 7
- B. 2 : 5
- C. 3 : 4
- D. 4 : 5

53. A sum of Rs 53 is divided among A, B and C in such a way that A gets Rs 7 more than B gets, and B gets Rs 8 more than what C gets. The ratio of their shares is:

- A. 16:9:18
- B. 25:18:10
- C. 18:25:10
- D. 15:8:30

निर्देश: (प्रश्न संख्या 47 एवं 48) निम्नलिखित प्रत्येक प्रश्नों में छवियों के दो सेट्स हैं। (a), (b), (c) तथा (d) समस्या समुच्चय का गठन करते हैं। जबकि छवि A, B, C तथा D उत्तर समुच्चय का गठन करते हैं। छवि (a) तथा छवि (b) के बीच निश्चित संबंध है। छवि (c) तथा (d) के बीच उसी तरह का संबंध स्थापित करते हुए उत्तर हेतु दिये सेट से उपयुक्त छवि का चयन करें।



49. विक्रय कर सहित एक वस्तु का विक्रय मूल्य रु. 1232 है। विक्रय कर का दर 10% है। अगर दुकानदार ने 12% का लाभ कमाया तो वस्तु का लागत मूल्य है।

- A. 900
- B. 950
- C. 1000
- D. 1120

50. एक व्यक्ति ने कुछ आम 12 रु. प्रति दर्जन खरीदा और उतना ही आम 10 रु. प्रति दर्जन खरीदा। उसने इन आमों को 13 रु. प्रति दर्जन की दर से बेचा और 160 रु. का लाभ कमाया। उसके द्वारा खरीदे गये आमों की संख्या:

- A. 60 दर्जन थी
- B. 70 दर्जन थी
- C. 80 दर्जन थी
- D. 90 दर्जन थी

51. एक बेईमान व्यापारी मीटर के स्केल के बदले 90 सेमी. के स्केल का प्रयोग करता है और दावा करता है कि वह लागत मूल्य पर बेच रहा है। उसका लाभ:

- A. 9% है
- B. 10% है
- C. 10.33% है
- D. 11.11% है

52. दो पूर्ण संख्या जिनका योग 84 है, इस अनुपात में नहीं हो सकते:

- A. 5 : 7
- B. 2 : 5
- C. 3 : 4
- D. 4 : 5

53. एक 53 रु. की राशि को A, B तथा C के बीच इस तरह बाँटा गया कि A को B से 7 रु. अधिक मिलता है तथा B को C से 8 रु. अधिक मिलता है। उनके हिस्सों का अनुपात:

- A. 16:9:18 है
- B. 25:18:10 है
- C. 18:25:10 है
- D. 15:8:30 है

54. Find the odd one out:
- A. 32 : 15
  - B. 86 : 42
  - C. 56 : 26
  - D. 74 : 36
55. Find the odd one out
- A. OPTSRQ
  - B. JKONML
  - C. EFJIHG
  - D. UVYZXW
56. In an examination 43% passed in math, 48% passed in Physics, 52% passed in Chemistry. Only 8% passed in all three subjects. 14% passed in Math and Physics, and 21% passed in Math and Chemistry and 20% passed in physics and Chemistry. Number of Students who took the exam is 200. How many students passed in math only?
- A. 16
  - B. 32
  - C. 48
  - D. 80
57. Vishal cut a cake into two halves and cuts one half into smaller pieces of equal size. Each of the small pieces is 20 gram in weight. If he has seven pieces of the cake in all with him, how heavy was the original cake?
- A. 120 gm
  - B. 140 gm
  - C. 240 gm
  - D. 280 gm
58. Choose the option that correctly fills the following blank spaces.  
a\_bbc\_aab\_cca\_a\_bbc\_c
- A. acbabc
  - B. abcbac
  - C. acbbac
  - D. cabacc
59. If '+' means 'x', '-' means '+', 'x' means '/' and '/' means '-', then  $12 \times 2 + 6 - 7/5 = ?$
- A. 37
  - B. 38
  - C. 39
  - D. 40
60. If M+N means M is brother of N, M/N means M is father of N and M×N means M is sister of N. Which of the following means A is uncle of B?
- A. A / C x B
  - B. C x B / A
  - C. A + D / E / B
  - D. A + G / H x B

54. विषम पता लगायें।
- A. 32 : 15  
B. 86 : 42  
C. 56 : 26  
D. 74 : 36
55. विषम पता लगायें।
- A. OPTSRQ  
B. JKONML  
C. EFJIHG  
D. UVYZXW
56. एक परीक्षा में 43% गणित में उत्तीर्ण हुए, 48% भौतिकशास्त्र में उत्तीर्ण हुए, 52% रसायनशास्त्र में उत्तीर्ण हुए। केवल 8% ही तीनों विषयों में उत्तीर्ण हुए। गणित तथा भौतिकशास्त्र में 14% उत्तीर्ण हुए तथा गणित एवं रसायनशास्त्र में 21% उत्तीर्ण हुए तथा भौतिकशास्त्र एवं रसायनशास्त्र में 20% उत्तीर्ण हुए। परीक्षा देने वालों छात्रों की संख्या 200 है। केवल गणित में उत्तीर्ण होने वाले छात्रों की संख्या क्या है?
- A. 16  
B. 32  
C. 48  
D. 80
57. विशाल ने एक केक दो बराबर भागों में काटा तथा एक आधे भाग को एक ही आकार के छोटे टुकड़ों में काटा। प्रत्येक छोटे टुकड़े का वजन 20 ग्राम है। अगर उसके पास केक के कुल सात टुकड़े हैं तो वास्तविक केक का वजन क्या था?
- A. 120 ग्राम  
B. 140 ग्राम  
C. 240 ग्राम  
D. 280 ग्राम
58. निम्न रिक्त स्थानों को भरने के लिए उचित विकल्प चुनें।  
a\_bbc\_aab\_cca\_a\_bbc\_c
- A. acbabc  
B. abcbac  
C. acbbac  
D. cabacc
59. अगर '+' मायने 'x', '-' मायने '+', 'x' मायने '/' तथा '/' मायने '-', तब  $12 \times 2 + 6 - 7/5 = ?$
- A. 37  
B. 38  
C. 39  
D. 40
60. अगर  $M+N$  मायने  $M$  भाई है  $N$  का,  $M/N$  मायने  $M$  पिता है  $N$  का तथा  $M \times N$  मायने  $M$  बहन है  $N$  का। निम्नलिखित में से किसका मायने  $B$  का चाचा  $A$  है?
- A.  $A / C \times B$   
B.  $C \times B / A$   
C.  $A + D / E / B$   
D.  $A + G / H \times B$

## PART-B (GENERAL AWARENESS)

61. **What is the major objective of launching red ribbon express?**
- A. To combat terrorist activities in Maoist infected areas
  - B. A multi-sectoral and multi-activity social mobilization campaign on HIV/AIDS
  - C. To fight eve-teasing in the Delhi by a trained group of police women
  - D. To support girl child education programme in schools
62. **Which constitutional amendment added 'Fundamental Duties' to the Constitution of India?**
- A. 44<sup>th</sup> Amendment
  - B. 50<sup>th</sup> Amendment
  - C. 52<sup>nd</sup> Amendment
  - D. 42<sup>nd</sup> Amendment
63. **How many districts of the country were initially covered under the Direct Benefit transfer scheme started from January 1, 2013?**
- A. 20
  - B. 29
  - C. 43
  - D. 34
64. **Who has won the Jnanpith award 2011 for the contribution in the field of literature?**
- A. Gopinath Mohanty
  - B. Pratibha Roy
  - C. Sri Lal Shukla
  - D. Chandra Shekher Kambara
65. **Which country cancelled its biggest foreign investment project with Indian firm GMR to develop its international airport?**
- A. Malaysia
  - B. Singapore
  - C. Maldives
  - D. None of these
66. **Which sport personality has won the Indian grand prix 2012 at the Buddha International Circuit for the second time?**
- A. Sebastian Vettel
  - B. Fernando Alonso
  - C. Mark Weber
  - D. Lewis Hamilton
67. **The union Government issued a guideline to stop misuse of which section of IT Act dealing with spreading messages of reported hatred by electronic media?**
- A. 66(a)
  - B. 66(c)
  - C. 65(a)
  - D. 66(b)
68. **What is the child sex ratio as per the census report of 2011?**
- A. 914 females per 1000 males.
  - B. 1000 males per 940 females
  - C. 917 females per 1000 males
  - D. 872 females per 1000 males
69. **Which Indian state has the lowest record of population density having just 17 per square kilometer?**
- A. Arunachal Pradesh
  - B. Mizoram
  - C. Nagaland
  - D. Sikkim

## खण्ड-B (सामान्य ज्ञान)

61. रेड रिबन एक्सप्रेस प्रारम्भ करने का मुख्य उद्देश्य क्या है?
- A. माओवाद से प्रभावित क्षेत्रों में आतंकी क्रियाकलापों का सामना करना।  
B. एचआईवी/एड्स पर बहु-खंड एवं बहु-क्रिया सामाजिक संचलन।  
C. दिल्ली में प्रशिक्षित महिला पुलिस द्वारा छेड़छाड़ को रोकने के लिए।  
D. स्कूलों में बालिका शिक्षा कार्यक्रम को समर्थन देने के लिए।
62. किस संविधान संशोधन से भारत के संविधान में 'मूल कर्तव्य' जोड़े गये थे:
- A. 44वाँ संशोधन  
B. 50वाँ संशोधन  
C. 52वाँ संशोधन  
D. 42वाँ संशोधन
63. 1 जनवरी, 2013 से आरम्भ की गई प्रत्यक्ष लाभ स्थानान्तरण योजना के तहत प्रारम्भ में देश के कितने जिलों को शामिल किया गया था?
- A. 20  
B. 29  
C. 43  
D. 34
64. साहित्य के क्षेत्र में योगदान हेतु 2011 का ज्ञानपीठ पुरस्कार किसने जीता है?
- A. गोपीनाथ मोहान्ती  
B. प्रतिभा रॉय  
C. श्री लाल शुक्ला  
D. चन्द्र शेखर काम्बरा
65. किस देश ने अपना अन्तर्राष्ट्रीय विमान पातन के विकास हेतु भारतीय कम्पनी GMR के साथ सबसे बड़े विदेशी निवेश परियोजना को निरस्त कर दिया?
- A. मलेशिया  
B. सिंगापुर  
C. मालदीव  
D. इनमें से कोई नहीं
66. किस खिलाड़ी ने बुद्धा अन्तर्राष्ट्रीय सर्किट में दोबारा भारतीय ग्रान्ड प्रिक्स 2012 जीता है?
- A. सेबास्टियन वेट्टेल  
B. फरनांडो अलॉन्सो  
C. मार्क वेबेर  
D. लेविस हैमिल्टन
67. भारत सरकार ने इलेक्ट्रॉनिक मीडिया द्वारा तथाकथित घृणा फैलाने से संबंधित सूचना प्रौद्योगिकी अधिनियम के किस धारा के दुरुपयोग रोकने के लिए दिशानिर्देश जारी किये?
- A. 66(a)  
B. 66(c)  
C. 65(a)  
D. 66(b)
68. 2011 की जनगणना के अनुसार शिशु लिंग अनुपात क्या है?
- A. 914 बच्चियाँ प्रति 1000 बच्चों पर  
B. 1000 बच्चे प्रति 940 बच्चियों पर  
C. 917 बच्चियाँ प्रति 1000 बच्चों पर  
D. 872 बच्चियाँ प्रति 1000 बच्चों पर
69. किस भारतीय राज्य में सबसे कम जनसंख्या घनत्व 17 प्रति वर्ग किलोमीटर है?
- A. अरुणाचल प्रदेश  
B. मिजोरम  
C. नागालैंड  
D. सिक्किम





70. लंदन ओलम्पिक 2012 में मैरी कॉम ने मुक्केबाजी के किस वर्ग में काँस्य पदक जीता?
- A. फ्ल्टाई वेट  
B. लाईट फ्ल्टाई वेट  
C. मिडल वेट  
D. हेवी वेट
71. संघीय सरकार ने इनमें से किस उद्देश्य हेतु निवेश पर केबीनेट कमेटी का गठन किया है?
- A. मेगा परियोजनाओं के लिए फास्ट ट्रैक निवेश अनुमति  
B. कम्पनियों द्वारा खुदरा निवेशकों के पैसों की सुरक्षा  
C. अधिक विदेशी सीधे निवेश को लाना  
D. विदेशी कम्पनी के निवेश परियोजना को नियमित करना
72. योजना आयोग के 2012 की रिपोर्ट के अनुसार भारत का कौन-सा राज्य 2006 से 2010 के बीच सबसे ज्यादा विकास करने वाला राज्य बना?
- A. गुजरात  
B. बिहार  
C. हरियाणा  
D. महाराष्ट्र
73. योजना आयोग के 2012 की रिपोर्ट के अनुसार कौन-सा राज्य पर्यावरणीय निष्पादन इंडेक्स (ईपीआई) के संदर्भ में सर्वश्रेष्ठ निष्पादित करने वाला राज्य है:
- A. केरल  
B. हिमाचल प्रदेश  
C. सिक्किम  
D. उत्तराखण्ड
74. रजत गुप्ता, गोल्डमैन साच समूह इंक (जीएस) निदेशक एवं मैकेन्जी एंड कंपनी के प्रबन्धन निदेशक को दो वर्ष की कारावास उनके इनमें से किसमें शामिल होने पर दिया गया:
- A. अनाधिकृत व्यापार (इनसाईडर ट्रेडिंग)  
B. आर्थिक कुप्रबन्धन  
C. कम्पनी के धन को अपने एकाउन्ट में रखने पर  
D. कम्पनी के धन को व्यक्तिगत स्वार्थ में खर्च करने पर
75. पार्क गियुन हे 2012 में किस देश की प्रथम महिला राष्ट्रपति निर्वाचित की गई?
- A. उत्तरी कोरिया  
B. दक्षिण कोरिया  
C. कम्बोडिया  
D. ताईवान
76. टाटा सन्स की अध्यक्षता का कार्यभार रतन टाटा के बाद 2012 में किसने ग्रहण किया?
- A. शैम्पोर जी मिस्त्री  
B. आर गोपालकृष्णन  
C. अरुण कुमार गांधी  
D. सायरस मिस्त्री
77. संसद द्वारा पारित नई कम्पनी बिल 2011 के अनुसार अपनी आय से कितनी राशि कम्पनी को सामाजिक दायित्व (CSR) पर खर्च करनी है?
- A. 1%  
B. 2%  
C. सीएसआर पर खर्च वैकल्पिक न कि अनिवार्य  
D. 3%
78. सचिन तेन्दुलकर ने 2012 में अपना शतकीय शतक किस देश के खिलाफ बनाया?
- A. बांग्लादेश  
B. वेस्टइंडीज  
C. श्री लंका  
D. ऑस्ट्रेलिया

79. Which country has planned to replace paper money with plastic bank notes?
- A. Germany  
B. Britain  
C. Japan  
D. Singapore
80. Which country got defeated by West Indies to win the ICC 20 –20 cricket world cup in 2012?
- A. Australia  
B. England  
C. Sri Lanka  
D. India
81. Which sports person was stripped of seven Tour De France title and banned for life for cycling due to doping charges by United States Anti Doping Agency?
- A. Lance Armstrong  
B. Floyd Landis  
C. George Hincapie  
D. Tyler Hamilton
82. What is the currency of United Kingdom?
- A. Dollar  
B. Yen  
C. Pound Sterling  
D. Rand
83. What does the Tenth Schedule of the Constitution of India contain?
- A. Languages  
B. Provisions relating to disqualification on ground of defection  
C. The three lists – Union, State and Concurrent  
D. Allocation of seats in the Council of States
84. Which of the following matters is not enumerated in the 'Union List'?
- A. Foreign Affairs  
B. Banking  
C. United Nations Organization  
D. Agriculture
85. Which film was protested by Muslims across the globe as it depicted insulting visuals of Prophet Mohammed?
- A. Happy hooker goes to Hollywood  
B. Lost as war  
C. Innocence  
D. Zombie wars
86. Who has written the book titled "Joseph Anton" which is a memoir of life of the author?
- A. Amitava Ghosh  
B. Salman Rushdie  
C. Arundhati Roy  
D. V.S Naipaul
87. Which freedom is not given to citizens by the Article 19(1) of the Constitution of India?
- A. Freedom of speech and expression  
B. Freedom to assemble peacefully and without arms  
C. Freedom to hold, acquire and dispose property  
D. Freedom to move freely throughout the territory of India

79. किस देश ने कागजी मुद्रा के स्थान पर प्लास्टिक बैंक मुद्रा लागू करने की योजना बनाई है?
- A. जर्मनी  
B. ब्रिटेन  
C. जापान  
D. सिंगापुर
80. 2012 में आईसीसी 20-20 क्रिकेट विश्व कप जीतने के लिए वेस्टइंडीज ने किस देश को हराया था?
- A. ऑस्ट्रेलिया  
B. इंग्लैण्ड  
C. श्रीलंका  
D. भारत
81. किस खिलाड़ी से यूनाइटेड स्टेट्स एंटी डोपिंग एजेन्सी द्वारा मादक पदार्थों के सेवन के आरोप में 'सेवन टूर डे फ्रांस' उपाधि छीन ली गई एवं साइकिलिंग से आजीवन प्रतिबंधित किया गया?
- A. लान्स आर्मस्ट्रॉंग  
B. फ्लॉयड लैंडिस  
C. जॉर्ज हिंकैपी  
D. टाइलर हैमिल्टन
82. यूनाइटेड किंगडम की मुद्रा क्या है?
- A. डॉलर  
B. येन  
C. पाउन्ड स्टर्लिंग  
D. रैन्ड
83. भारत के संविधान की 10वीं अनुसूची में क्या है?
- A. भाषाएँ  
B. दल परिवर्तन के आधार पर निरर्हता के बारे में प्रावधान  
C. तीन सूचियाँ-संघ, राज्य और समवर्ती  
D. राज्य सभा में सीटों का आबंटन
84. नीचे लिखे विषयों में कौन-सा 'संघ सूची' में नहीं है?
- A. विदेश कार्य  
B. बैंककारी  
C. संयुक्त राष्ट्र संघ  
D. कृषि
85. पैगम्बर मौहम्मद के आपत्तिजनक दृश्यों के दिखाने पर विश्व भर के मुस्लिमों ने किस फिल्म का विरोध किया?
- A. हैप्पी हुकर गोज टू हॉलीवुड  
B. लॉस्ट एज वार  
C. इन्नोसेंस  
D. जोम्बी वार्स
86. 'जोसेफ एन्टन' नामक किताब किसने लिखी जोकि लेखक के जीवन का संस्मरण है:
- A. अमिताव घोष  
B. सलमान रश्दी  
C. अरुंधती रॉय  
D. वी.एस. नायपॉल
87. भारतीय संविधान का अनुच्छेद 19(1) कौन-सा स्वातंत्र्य नागरिकों को नहीं देता है?
- A. वाक्-स्वातंत्र्य और अभिव्यक्ति स्वातंत्र्य  
B. शांतिपूर्व और निरायुध सम्मेलन का स्वातंत्र्य  
C. संपत्ति को हासिल करने, रखने और बेचने का स्वातंत्र्य  
D. भारत के राज्यक्षेत्र में सर्वत्र अवाध संचरण का स्वातंत्र्य

- 88. Which Island in the East China Sea has become a matter of dispute between China and Japan?**
- A. Honashu  
B. Chongming  
C. Senkaku  
D. Matsu
- 89. Who serves as the Chairman of the Council of States?**
- A. The President of India  
B. The Vice–President of India  
C. The person so elected by the Council of States  
D. The person so nominated by the Ruling Party
- 90. How many members can be nominated by the President to the Council of States?**
- A. 20  
B. 10  
C. 14  
D. 12
- 91. Agni II, a domestically built medium range ballistic missile is**
- A. Surface to surface strike missile  
B. Air to surface strike missile  
C. Surface to air strike missile  
D. Air to Air strike missile
- 92. The President of India is elected by the members of an electoral college comprising of –**
- A. The members of both Houses of the Parliament  
B. The members of both Houses of the Parliament and the Legislative Assemblies of the States  
C. The elected members of both Houses of the Parliament and the elected members of the Legislative Assemblies of the States  
D. The elected members of both Houses of the Parliament, the elected members of the Legislative Assemblies of the States and the elected members of the local bodies
- 93. What is the Capital of Nagaland?**
- A. Shillong  
B. Aizawl  
C. Imphal  
D. Kohima
- 94. Which country has granted Wiki Leaks founder Julian Assange political asylum to shield his extradition from UK to Sweden to face charges of sexual harassment?**
- A. Peru  
B. Columbia  
C. Ecuador  
D. Somalia
- 95. What was the reserve price approved by the Union cabinet for auction of 2G spectrum as well as spectrum usage charges?**
- A. 14000 crore for 5 megahertz pan India spectrum in the 1800 megahertz band  
B. 18000 crore for 5 megahertz pan India spectrum in the 1800 megahertz band  
C. 12000 Crore for 5 megahertz pan India spectrum in the 1800 megahertz band  
D. 20000 Crore for 5 megahertz pan India spectrum in the 188 megahertz band

88. पूर्वी चीन समुद्र में कौन-सा द्वीप चीन एवं जापान के बीच विवाद का विषय बना?
- A. होनाशु  
B. चोन्गमिंग  
C. सेनकाकू  
D. मत्सू
89. राज्य सभा का सभापति कौन होता है?
- A. भारत का राष्ट्रपति  
B. भारत का उपराष्ट्रपति  
C. व्यक्ति जो इस पद के लिये राज्य सभा चुनती है  
D. व्यक्ति जो सत्तारूढ़ दल नामांकित करता है
90. राष्ट्रपति राज्य सभा में कितने सदस्यों को नामांकित कर सकते हैं:
- A. 20  
B. 10  
C. 14  
D. 12
91. अग्नि-II, एक स्व-निर्मित मध्यम दूरी की बैलिस्टिक मिसाइल है:
- A. भूमि से भूमि पर मार करने वाला मिसाइल  
B. वायु से भूमि पर मार करने वाला मिसाइल  
C. भूमि से वायु पर मार करने वाला मिसाइल  
D. वायु से वायु में मार करने वाला मिसाइल
92. भारत के राष्ट्रपति का निर्वाचन ऐसे निर्वाचकगण के सदस्य करते हैं जिसमें-
- A. संसद के दोनों सदनों के सदस्य होते हैं  
B. संसद के दोनों सदनों के सदस्य और राज्यों की विधान सभाओं के सदस्य होते हैं  
C. संसद के दोनों सदनों के निर्वाचित सदस्य और राज्यों की विधान सभाओं के निर्वाचित सदस्य होते हैं  
D. संसद के दोनों सदनों के निर्वाचित सदस्य, राज्यों की विधान सभाओं के निर्वाचित सदस्य और स्थानीय निकायों के निर्वाचित सदस्य होते हैं
93. नागालैण्ड की राजधानी क्या है?
- A. शिलॉंग  
B. आइजोल  
C. इम्फाल  
D. कोहिमा
94. यौन प्रताड़ना के आरोपी विकी लिक्स के संस्थापक जुलियन असेंजे को यूके से स्वेडन प्रत्यर्पण रोकने के लिये किस देश ने उसे राजनीतिक शरण दी?
- A. पेरू  
B. कोलम्बिया  
C. इक्वाडोर  
D. सोमालिया
95. 2जी स्पेक्ट्रम तथा स्पेक्ट्रम उपयोग प्रभार के निलामी हेतु संघी केबिनेट द्वारा अनुमोदित रिजर्व मूल्य क्या था?
- A. 1800 मेगाहर्ट्ज बैंड में 5 मेगाहर्ट्ज पैर इंडिया स्पेक्ट्रम हेतु 14000 करोड़ रु.  
B. 1800 मेगाहर्ट्ज बैंड में 5 मेगाहर्ट्ज पैर इंडिया स्पेक्ट्रम हेतु 18000 करोड़ रु.  
C. 1800 मेगाहर्ट्ज बैंड में 5 मेगाहर्ट्ज पैर इंडिया स्पेक्ट्रम हेतु 12000 करोड़ रु.  
D. 188 मेगाहर्ट्ज बैंड में 5 मेगाहर्ट्ज पैर इंडिया स्पेक्ट्रम हेतु 20000 करोड़ रु.

96. Which Indian state has raised the age limit from 35 to 40 years in Government jobs?
- A. Uttar Pradesh  
B. Bihar  
C. Uttarakhand  
D. Chhattisgarh
97. Which among the followings have been conferred with Rajiv Gandhi Khel Ratna Award in 2012?
- A. Deepika Kumari and Yuvraj Singh  
B. Yogeshwar Datt and Vijay Kumar  
C. Mary Kom and Anup Kumar  
D. Saina Nehwal and Sushil Kumar
98. Which schoolgirl from Pakistan shot by Taliban for campaigning girls' education received France's Simone de Beauvoir Prize for Women's Freedom in Paris?
- A. Malala Yousafzai  
B. Shamim Yousafzai  
C. Malala Razia  
D. Malala Yacob
99. Who has written the 'Natya Shastra, which is the main source of Indian classical dances?
- A. Abhinav Gupta  
B. Chanakya  
C. Bharat Muni  
D. Kalhan
100. Which of the following is presented in a correct chronological order?
- A. Qutub Minar, Taj Mahal Fatehpur Sikri  
B. Qutub Minar, Fatehpur Sikri Taj mahal  
C. Fatehpur Sikri, Taj mahal, Qutub Mina  
D. Taj Mahal, Fatehpur Sikri, Qutub Minar
101. What is the cap of minimum votes a political party must secure in election to get the status of a State party as decided by the election commission of India?
- A. 8 per cent of total valid votes polled in State Assembly or Lok Sabha polls.  
B. 9 per cent of total valid votes polled in State Assembly or Lok Sabha polls,  
C. 7 per cent of total valid votes polled in State Assembly or Lok Sabha polls  
D. 6 per cent of total valid votes polled in State Assembly or Lok Sabha polls.
102. Which of the following company has been directed by the supreme court of India to refund an amount of ₹ 17,400 crore to their investors?
- A. Reliance  
B. Sahara  
C. Vodafone  
D. Air India
103. Which one among the following is the fastest Indian super computer recently developed by Indian Space Research Organization (ISRO) for solving aeronautical problems and designing future space launch vehicles?
- A. Aakash A1  
B. Alpus  
C. Saga 220  
D. Vesta
104. Which one among the following is not a dance form of South India?
- A. Bharat Natyam  
B. Hattari  
C. Kutchipudi  
D. Khantumm

96. किस भारतीय राज्य ने सरकारी नौकरियों में आयु सीमा बढ़ाकर 35 से 40 वर्ष कर दी है?
- A. उत्तर प्रदेश  
B. बिहार  
C. उत्तराखण्ड  
D. छत्तीसगढ़
97. वर्ष 2012 में किसे राजीव गांधी खेल रत्न पुरस्कार से विभूषित किया गया?
- A. दीपिका कुमारी एवं युवराज सिंह  
B. योगेश्वर दत्त एवं विजय कुमार  
C. मैरी कॉम एवं अनुप कुमार  
D. सायना नेहवाल एवं सुशील कुमार
98. पाकिस्तान की किस स्कूली बच्ची, जिसे लड़कियों की शिक्षा हेतु प्रचार करने के कारण तालिबान ने गोली मारी, को महिलाओं की आजादी हेतु पेरिस में फ्रांस की सीमोन डि बियूभोर पुरस्कार प्राप्त हुई?
- A. मलाला युसूफजाइ  
B. शमीम युसूफजाइ  
C. मलाला रजिया  
D. मलाला याकोब
99. 'नाट्य शास्त्र' जोकि भारतीय शास्त्रीय नृत्य का मुख्य स्रोत है, को किसने लिखा?
- A. अभिनव गुप्ता  
B. चाणक्य  
C. भरत मुनि  
D. कल्हन
100. निम्न में कौन- कालानुक्रमिकता में सही है?
- A. कुतुब-मीनार, ताजमहल, फतेहपुर सिकरी  
B. कुतुब-मीनार, फतेहपुर सिकरी, ताजमहल  
C. फतेहपुर सिकरी, ताजमहल, कुतुब-मीनार  
D. ताजमहल, फतेहपुर सिकरी, कुतुब-मीनार
101. भारत के चुनाव आयोग के अनुसार राज्य स्तर के दल की मान्यता प्राप्त करने के लिए एक राजनीतिक दल को कम से कम कितने प्रतिशत वोट प्राप्त करने होंगे?
- A. राज्य विधानसभा अथवा लोकसभा में डाले गये कुल वैध मतों का 8 प्रतिशत  
B. राज्य विधानसभा अथवा लोकसभा में डाले गये कुल वैध मतों का 9 प्रतिशत  
C. राज्य विधानसभा अथवा लोकसभा में डाले गये कुल वैध मतों का 7 प्रतिशत  
D. राज्य विधानसभा अथवा लोकसभा में डाले गये कुल वैध मतों का 6 प्रतिशत
102. इनमें से किस कम्पनी को भारतीय सर्वोच्च न्यायालय ने निर्देश दिया कि वह अपने निवेशकों को ₹ 17,400 करोड़ रुपये की राशि लौटाये?
- A. रिलायंस  
B. सहारा  
C. वोडाफोन  
D. एयर इंडिया
103. वैमानिक समस्याओं को सुलझाने हेतु एवं भविष्य की अंतरिक्ष वाहक वाहनों के अभिकल्पन हेतु भारतीय अंतरिक्ष अनुसंधान संघटन (इसरो) द्वारा हाल ही में विकसित द्रुततम भारतीय सुपर कम्प्यूटर इनमें से कौन है?
- A. आकाश A1  
B. अल्पस  
C. सागा 220  
D. वीस्ता
104. इनमें से कौन-सा दक्षिण भारत का नृत्य प्रारूप नहीं है?
- A. भरत नाट्यम्  
B. हत्तारी  
C. कुचीपुड़ी  
D. खान्नुम

- 105. Which of the following site was included in world heritage list by the UNESCO in 2012?**
- A. Eastern Ghats
  - B. Kaziranga National Park
  - C. Konkan Railway
  - D. Western Ghats
- 106. Which actor has bagged the best actor award for 2011 at the 59<sup>th</sup> national film festival held in 2012?**
- A. Ranbir Kapoor
  - B. Appu kuttu
  - C. Partho Gupta
  - D. Girish Kulkarni
- 107. Jabalpur is situated on the bank of which river?**
- A. Gomti
  - B. Godavari
  - C. Cauveri
  - D. Narmada
- 108. Who has written the book titled 'A Bunch of Old Letters'?**
- A. Indira Gandhi
  - B. Jawaharlal Nehru
  - C. Kuldip Nayar
  - D. Dr. S. Radha Krishnan
- 109. Establishment of which nuclear power plant is being protested by the local people and anti nuclear activists on grounds of its adverse environmental impact?**
- A. Jaitapur
  - B. Narora
  - C. Kalpakkam
  - D. Kaiga
- 110. Which planet discovered recently is 2.4 times the size of the earth, and 600 light years away from the earth?**
- A. Eris
  - B. Keppler 22b
  - C. Pluto
  - D. HD 10700e
- 111. Which fund has been created by the government through Banking Laws (Amendment) Bill, 2011 to take over unclaimed amount of inoperative fixed deposit accounts of over 10 years?**
- A. Depositor Education and Awareness Fund
  - B. Banking investor's fund
  - C. Depositors welfare and education fund
  - D. Bankers welfare fund
- 112. What is the correct chronological order in which the following persons have held the office of the president?**
- 1. Neelam Sanjeeva Reddy
  - 2. Giani Zail Singh
  - 3. R. Venkataraman
  - 4. Shankar Dayal Sharma
- A. 2, 3, 1, 4
  - B. 1, 2, 3, 4
  - C. 1, 3, 2, 4
  - D. 2, 3, 4, 1



105. यूनेस्को द्वारा 2012 में इनमें से किस स्थल को विश्व धरोहर की सूची में शामिल किया गया?
- A. पूर्वी घाट  
B. काजीरंगा राष्ट्रीय उद्यान  
C. कोंकण रेलवे  
D. पश्चिमी घाट
106. 2012 में आयोजित 59वाँ राष्ट्रीय फिल्म उत्सव में 2011 के लिए सर्वोत्तम कलाकार का पुरस्कार इनमें से किस कलाकार को दिया गया?
- A. रणवीर कपूर  
B. अप्पु कुट्टी  
C. पार्थो गुप्ते  
D. गिरीश कुलकर्णी
107. जबलपुर किस नदी के किनारे बसा है?
- A. गोमती  
B. गोदावरी  
C. कावेरी  
D. नर्मदा
108. 'ए बंच ऑफ ओल्ड लैटर्स' किताब किसने लिखी है?
- A. इन्दिरा गांधी  
B. जवाहरलाल नेहरू  
C. कुलदीप नैय्यर  
D. डॉ. एस. राधाकृष्णन
109. स्थानीय लोग एवं नाभिकीय विरोधी कार्यकर्ता द्वारा इसके प्रतिकूल पर्यावरणीय प्रभाव पर किस नाभिकीय विद्युत संयंत्र की स्थापना का विरोध कर रहे हैं?
- A. जैतापुर  
B. नरोरा  
C. कलपक्कम  
D. कैगा
110. हाल ही में किस ग्रह का पता चला जोकि आकार में पृथ्वी से 2.4 गुना बड़ा है एवं पृथ्वी से 600 प्रकाश वर्ष दूर है:
- A. इरीस  
B. केपलर 22बी  
C. प्लूटो  
D. एचडी 10700इ
111. 10 वर्ष से ज्यादा के निष्क्रिय सावधि जमा लेखाओं के गैर-दावाकृत राशि को लेने के लिये बैंकिंग नियमावली (संशोधन) विधेयक 2011 के माध्यम से सरकार द्वारा किस निधि की रचना की गई?
- A. जमाकर्ता शिक्षा एवं जागरूकता निधि  
B. बैंकिंग निवेशक निधि  
C. जमाकर्ता कल्याण एवं शिक्षा निधि  
D. बैंकर्स कल्याण निधि
112. निम्न व्यक्तियों द्वारा राष्ट्रपति बनने का सही कालानुक्रमिक क्रम क्या है?
1. नीलम संजीव रेड्डी  
2. ज्ञानी जैल सिंह  
3. आर. वेंकटरमन  
4. शंकर दयाल शर्मा
- A. 2, 3, 1, 4  
B. 1, 2, 3, 4  
C. 1, 3, 2, 4  
D. 2, 3, 4, 1

- 113. What provides a common address space and routes, the packets of data across the entire internet?**
- A. Internet protocol
  - B. Transmission control protocol
  - C. Virtual internet protocol
  - D. Total control protocol
- 114. What is the correct chronological order in which the British established their trading centres in India?**
- A. Surat, Calcutta, Bombay, Madra
  - B. Suart, madras, Calcutta, Bombay
  - C. Madras, Calcutta, Bombay, Surat
  - D. Bombay, Calcutta, Madras, Surat
- 115. In which organization headed by Chitranjan Das, Netaji Shubhash Chandra Bose worked as a chief executive officer?**
- A. Calcutta Tramways
  - B. Kolkata Municipal Corporation
  - C. Bengal Railways
  - D. Calcutta University
- 116. What causes beri beri?**
- A. Lack of vitamin D
  - B. Lack of vitamin A
  - C. Lack of vitamin B1
  - D. Lack of calcium
- 117. Which of the following is not an operating system in computers?**
- A. Oracle
  - B. Android
  - C. Linux
  - D. Windows
- 118. Higgs–boson particle which was recently discovered by the scientists, is also known as**
- A. Quantum particle
  - B. High mass particle
  - C. God particle
  - D. Atomic particle
- 119. Which tools are being used by the American researchers to detect illegal nuclear explosions?**
- A. The Earth's Global Positioning System (GPS)
  - B. Water alarm device
  - C. Global positioning response system
  - D. Geiger counter
- 120. Which company has developed AKASH, the cheapest tablet computer?**
- A. Lenovo
  - B. IBM
  - C. HCL
  - D. Datawind

113. पूरे इन्टरनेट पर सामान्य पता स्थान एवं नियामकपथ और आंकड़ा संग्रह कौन उपलब्ध कराता है:
- इन्टरनेट प्रोटोकॉल
  - ट्रांसमिशन कंट्रोल प्रोटोकॉल
  - वर्चुअल इन्टरनेट प्रोटोकॉल
  - टोटल कंट्रोल प्रोटोकॉल
114. ब्रिटिश द्वारा भारत में अपने व्यवसाय केन्द्रों की स्थापना का सही कालानुक्रमिक क्रम क्या है?
- सूरत, कलकत्ता, बॉम्बे, मद्रास
  - सूरत, मद्रास, कलकत्ता, बॉम्बे
  - मद्रास, कलकत्ता, बॉम्बे, सूरत
  - बॉम्बे, कलकत्ता, मद्रास, सूरत
115. चित्तरंजन दास की अध्यक्षता वाली किस संगठन में नेताजी सुभाष चन्द्र बोस एक मुख्य कार्यपालक अधिकारी के बाबत कार्य किये थे?
- कालकत्ता ट्रामवेज
  - कोलकाता म्युनिसिपल कार्पोरेशन
  - बंगाल रेलवेज
  - कलकत्ता विश्वविद्यालय
116. 'बेरी-बेरी' का क्या कारण होता है?
- विटामिन D की कमी
  - विटामिन A की कमी
  - विटामिन B1 की कमी
  - कैल्शियम की कमी
117. इनमें से क्या कम्प्यूटर का ऑपरेटिंग सिस्टम नहीं है?
- ओरेकल
  - एंड्रॉयड
  - लाइनक्स
  - विन्डोज
118. वैज्ञानिकों द्वारा हाल ही में आविष्कृत हिग्स-बोसोन पार्टिकल को इस नाम से भी जाना जाता है:
- क्वांटम पार्टिकल
  - हाई मास पार्टिकल
  - गॉड पार्टिकल
  - एटोमिक पार्टिकल
119. अमेरिकी शोधकर्ताओं द्वारा अवैध नाभिकीय विस्फोटों का पता लगाने में किन उपकरणों का प्रयोग किया जा रहा है?
- पृथ्वी का ग्लोबल पोजिशनिंग सिस्टम (जीपीएस)
  - वाटर अलार्म डिवाइस
  - ग्लोबल पोजिशनिंग रिसर्च सिस्टम
  - गेजर काउन्टर
120. सबसे सस्ती टेबलेट कम्प्यूटर आकाश को किस कम्पनी ने बनाया?
- लेनोवो
  - आई.बी.एम.
  - एच.सी.एल.
  - डेटाविंड

## PART-C (ENGLISH LANGUAGE)

DIRECTIONS: (Question No. 121 to 125) For each of the following questions select the word which is the exact opposite from the words given below.

**121. RELINQUISH**

- A. Renounce
- B. Deny
- C. Possess
- D. Abdicate

**122. BURY**

- A. Embed
- B. Exhume
- C. Conceal
- D. Allow

**123. MANDATE**

- A. Denial
- B. Ratify
- C. Approval
- D. Assent

**124. INDISCRETION**

- A. Prudence
- B. Carelessness
- C. Recklessness
- D. Inattention

**125. INCENTIVE**

- A. Deterrent
- B. Bait
- C. Intention
- D. Sensation

DIRECTIONS: (Question No. 126 to 130) For each of the following questions select the word which best expresses the meaning of the word from the words given below.

**126. INSATIABLE**

- A. Wild
- B. Angry
- C. Quick
- D. Greedy

**127. WOBBLY**

- A. Unsteady
- B. Cautious
- C. Critical
- D. Susceptible

**128. REPEAL**

- A. Revoke
- B. Undress
- C. Pay
- D. Iterate

**129. OMNIPRESENT**

- A. Nowhere
- B. Absent
- C. All-pervading
- D. Narrow

**130. MANOEUVRE**

- A. Ploy
- B. Pretend
- C. Imagine
- D. Influence

DIRECTIONS: (Question No. 131 to 135) Select the correct meaning of given phrase/idiom from the options in each question.

**131. To leave someone in the lurch**

- A. To make compromise with someone
- B. Consistently create problem for someone
- C. To create tension and stress for someone
- D. To desert someone in difficult times

**132. To rise from the ranks**

- A. To go according to one's rank
- B. To struggle for a rank
- C. To rise from a low position
- D. The common man

**133. Jump on the band wagon**

- A. Grab the opportunity
- B. Catch the lorry at once
- C. Leave the slow carrier to move fast
- D. Join a growing movement to support something or someone

**134. Die in harness**

- A. Die while still working/ active
- B. Die while horse riding
- C. Die while shooting
- D. Die in hunger

**135. Once in a blue moon**

- A. Very rarely
- B. When there is a full moon
- C. Frequently
- D. None of the above

**136. Choose the correct word to fill up the following sentence.**

**Sentence: I won't be able to meet you next week in Mumbai, I .....in Lucknow for a few days.**

- A. Will be staying
- B. Will stay
- C. Stay
- D. Am staying

**137. Choose the correct word to fill up the following sentence.**

**Sentence: They needed someone who was both an excellent administrator and a good manager. .... was not easy to find.**

- A. Such a person
- B. A such person
- C. Such person
- D. This person

**138. Choose the correct word to fill up the following sentence.**

**Sentence: \_\_\_\_\_ my friends knew that I was getting married.**

- A. Not so much
- B. Not much of
- C. Not many of
- D. Not any

**139. Choose the correct word to fill up the following sentence.**

**Sentence: The welcome party given by the juniors was excellent and I would like to thank all the .....**

- A. People celebrated
- B. Responsible people
- C. People attended
- D. People concerned

**140. Choose the correct word to fill up the following sentence.**

**Sentence: Trade unions have lost much of their power in globalized world. .... their political influence should not be underestimated.**

- A. Even so
- B. Even through
- C. Even
- D. Even though

**141. Choose the correct words to fill up the following sentence.**

**Sentence: I told him that he couldn't hope to catch a big fish ..... a small rod like that, but he insisted ..... trying.**

- A. Through, on
- B. By, about
- C. With, about
- D. By, on

**142. Choose the correct words to fill up the following sentence.**

**Sentence: Rajat ..... for the national volleyball team in 10 matches so far.**

- A. Had played
- B. Is playing
- C. Played
- D. Has been playing

**143. Which of the following sentence is correctly written?**

- A. He'd left his papers all across the room
- B. Radha got low grades in her exams. Therefore she had to retake them to get into college.
- C. He went to Ranchi for playing hockey.
- D. Rahul is always complaining for his younger sister Amrita.

**144. Which of the following sentence is wrongly written?**

- A. How long have you been wearing glasses?
- B. I promise I will call you as soon as I get home.
- C. Her family might have influenced her decision to quit the job.
- D. It's not worth having the trouble to write to Shekhar. He never replies.

**145. Which among the following sentence is wrongly written?**

- A. Many cabinet ministers of the ruling party have been trying to justify the decision of the prime minister.
- B. Following the drought each household in the area need to be shifted to elsewhere.
- C. Jagat was short of money after losing his job so what he did was to sell his house and move to his brother's house.
- D. I was surprised to hear that some of the most poisonous snakes in the world are found in the deserts.

DIRECTIONS: (Question No. 146 to 150) In each of the following sentences find out whether there is any error in it. The error if any will be in one part of the sentence, the option of that part is the answer.

146. This is one (A)/ of the most interesting novels (B)/ that has appeared (C)/ this year (D).
147. When you will find (A)/ a solution to this problem (B)/ you will be able (C)/ to get this prestigious project with promotion (D).
148. You and myself (A)/ will enjoy the function (B)/ being organized in the honour of (C)/ the new chairman of the company (D).
149. The income derived (A)/ of the ownership (B)/ of land is (C)/ commonly called rent (D).
150. Sushil and Rupa were sleeping (A)/ in their bed room when a thief (B)/ entered into his house (C)/ and took away many things (D).

DIRECTIONS: (Question No. 151 to 155) In each question, an incomplete statement is followed by a number of options given below. Pick out the best option which can complete incomplete sentence correctly and meaningfully.

151. It is very difficult to remain serene, when people around you .....
- A. Behave within socially acceptable limits
  - B. Display pleasurable gesticulation
  - C. Are unable to use their senses
  - D. Show munificent and affable gestures
152. The weather outside the house was awfully quaint and consequently we decided to .....
- A. Make use of our time in watching the cricket match on television
  - B. Abstain from going out for to meet friends
  - C. Get pleasure from a morning traverse in the open field
  - D. Utilize this rare occasion for calligraphy
153. Growing sweet potato and ginger used to be a tortuous experience for farmers and .....
- A. They suffered from breathing troubles due to chemical pesticides sprinkled in the field
  - B. They switched to powdered biofertilizer which left their hands pitch-black
  - C. They started using liquid biofertilizers resulting in better health and increased land fertility
  - D. They stopped farming ginger and potato and switched to other crops
154. Solar energy has become more affordable to the poor and weaker sections of society as .....
- A. Linking solar lighting systems to bank financing has allowed them to pay in installments
  - B. It's been able to provide affordable alternative energy to them with no access to regular power
  - C. It has facilitated micro-enterprises, helping them to work from home and earn money
  - D. It is an expensive but clean energy made available to them through solar power organizations.



**155. The government should consider charging the very rich more tax because**

- A. This would help the country to reduce the wide fiscal gap
- B. These people earn more money
- C. These people can afford to pay higher taxes
- D. These people can support the government development programmes by paying higher taxes

**DIRECTIONS:** (Question No. 156 to 160) In each of the sentence find out whether there is any grammatical error in it. The error, if any will be in one part of the sentence. The letter of that part is the answer.

**156.**

- A. The job is much worse than Damini expected
- B. if she would have realized
- C. how dreadful it was going to be
- D. she would not have accepted it.

**157.**

- A. At the end of the performance evaluation period
- B. every employee who had performed excellently
- C. were promoted to the next cadre
- D. and given salary increase

**158.**

- A. If I will have the time
- B. I shall try and make it
- C. to the temple this evening to offer prayers
- D. for peace and prosperity of my family

**159.**

- A. Another reason for drug companies beefing up their
- B. Foreign divisions is that prescription drugs with proven safety records which have been reached
- C. The end of the their patent protection period are
- D. Allowed to be sold without a prescription

**160.**

- A. According to a ministry of environment and forest report
- B. Only those forests which were
- C. Not under participatory forest management system
- D. Succumbed from fires in recent times

DIRECTIONS: (Question No. 161 to 165) For each of the questions given below find out the correctly spelt words.

161.

- A. Apology
- B. Appology
- C. Appolegy
- D. Apollogy

162.

- A. Seperated
- B. Separatted
- C. Saperated
- D. Separated

163.

- A. Conscientous
- B. Conscientious
- C. Consceintious
- D. Conscientinuous

164.

- A. Bouquete
- B. Bouquet
- C. Boquet
- D. Bouquette

165.

- A. Trecherous
- B. Treacherous
- C. Treachrous
- D. Trechearous

DIRECTIONS: (Question No. 166 to 170) In each of the questions below a sentence is broken into FOUR parts. Join these parts to make a meaningful sentence. The correct order of parts is the answer.

166.

1. **As we rarely get tip offs**
  2. **From student's community**
  3. **It is hard to nab**
  4. **Drug peddlers in the campus**
- A. 3, 4, 1, 2
  - B. 1, 2, 3, 4
  - C. 2, 3, 1, 4
  - D. 3, 4, 2, 1

167.

1. One of the most prestigious and popular literature festivals
  2. Jaipur Literature Festival
  3. Which has grown to become
  4. The stage is set for
- A. 2, 3, 4, 1  
B. 4, 2, 3, 1  
C. 1, 2, 3, 4  
D. 2, 1, 4, 3

168.

1. As an investment destination
  2. A strong Indian delegation is making
  3. A determined pitch in the Alpine resort
  4. To showcase the attractiveness of India.
- A. 1, 2, 3, 4  
B. 2, 3, 4, 1  
C. 3, 4, 2, 1  
D. 2, 3, 1, 4

169.

1. That I love and enjoy
  2. I am doing something
  3. For me it is like
  4. Just like others do
- A. 1, 2, 3, 4  
B. 3, 2, 1, 4  
C. 2, 4, 3, 1  
D. 4, 2, 3, 1

170.

1. To build and run communication networks in its neighbourhood countries
  2. To counter potential threats and integrity of telecom and Internet communication
  3. India should counter China's move
  4. Between India and its neighbours.
- A. 1, 2, 3, 4  
B. 2, 4, 3, 1  
C. 3, 2, 4, 1  
D. 2, 1, 3, 4

**DIRECTIONS:** (Question No. 171 to 175) In the following passage there are blanks, each of which has been numbered from 171 to 175, and printed in the passage. For each number four words are suggested and one of which fits the blank appropriately. Find out the appropriate word in each case.

**PASSAGE:** Personality is a multifaceted concept with a long history of (171) and inconclusive yet interesting research. It is a word used frequently for describing the (172) of an individual. Personality has been studied by Philosophers, astrologers, psychologists, social scientists and the list goes on. As a result there are numerous theories and approaches to understand personality. In general (173) refers to a wide range of individual attributes that distinguishes people from one another. The (174) nature of consistency of personality characteristics lead to patterns of (175) behavior in similar ways across situations and settings.

**171.**

- A. Conflicting
- B. Consistent
- C. Compatible
- D. Dissimilar

**172.**

- A. Uncommon
- B. Uniqueness
- C. Quality
- D. Imitability

**173.**

- A. Personality
- B. Character
- C. Traits
- D. Behaviour

**174.**

- A. Unstable
- B. Unsteady
- C. Enduring
- D. Shortlived

**175.**

- A. Surprising
- B. Unexpected
- C. Conventional
- D. Predictable

**DIRECTIONS:** (Question No. 176 to 180) Read the following passage and give the answers of the following questions.

The refusal of British to be a part of European Union (EU) with greater political unification is unfortunate. It does not mean that one European community with free movement of goods, people and ideas is redundant. Notwithstanding its economic vows there is no denying that the fundamental post-national ideal of EU has held Europe in good stead leading to an era of unprecedented peace and cooperation. There is a need to learn from the downturn is that currency union without fiscal union is flawed. The solution is greater integration and alignment of financial, political and legal structures of member states. The argument that Europe with its diverse language and cultures cannot survive as a union, doesn't cut ice either. Just like the diversity in India, there is no reason why the EU cannot fuse into a political union. Having congruence in foreign policy, a 'United States of Europe' is the next logical step for the common economic bloc; and if Britain does not join, it stands to be isolated.

**176. What should be the title of the passage?**

- A. Political integration of European Union
- B. Britain's autonomy and sovereignty
- C. Logical integration of Britain with European Union
- D. Fiscally integrated European Union

**177. What is the message the author wants to give in this passage?**

- A. Integration will help member states to consolidate their power and supremacy
- B. Fiscal integration is must for Member states
- C. Unity within diversity for member estates
- D. Britain should go for fiscal, political and economic integration

**178. What does it mean to convey– the fundamental post national ideal of EU?**

- A. Self contained autonomy of nation states
- B. Cultural, demographic and economic integration of member states
- C. Transnational flow of capital, communication and people across Europe
- D. Economic growth and development all member states

**179. What do you mean by the term 'does not cut ice either' in this passage?**

- A. To penetrate with a sharp edge
- B. To have a frozen surface of a body
- C. To make no inroads
- D. To have no influence or making no impression

**180. What is the logic of UK for not joining the EU?**

- A. Maintaining its sovereignty and autonomy
- B. It will have adverse impact on fiscal growth of Britain
- C. Its money will be devalued
- D. It will lose its cultural identity

ROUGH WORK (कच्चा कार्य)

ROUGH WORK (कच्चा कार्य)

ROUGH WORK (कच्चा कार्य)



## Answer Key

### Part C – General English

121	C	141	D	161	A
122	B	142	D	162	D
123	A	143	B	163	B
124	A	144	D	164	B
125	A	145	B	165	B
126	D	146	C	166	A
127	A	147	A	167	B
128	A	148	A	168	B
129	C	149	B	169	B
130	A	150	C	170	B
131	D	151	C	171	A
132	C	152	C	172	B
133	D	153	C	173	A
134	A	154	A	174	C
135	A	155	D	175	D
136	A	156	B	176	C
137	A	157	C	177	D
138	C	158	A	178	B
139	D	159	B	179	D
140	D	160	D	180	A

## Answer Key

### Part B - General Awareness

61	B	81	A	101	A
62	D	82	C	102	B
63	A	83	B	103	C
64	B	84	D	104	D
65	C	85	C	105	D
66	A	86	B	106	D
67	A	87	C	107	D
68	A	88	C	108	B
69	A	89	B	109	A
70	A	90	D	110	B
71	A	91	A	111	A
72	B	92	C	112	B
73	D	93	D	113	A
74	A	94	C	114	B
75	B	95	A	115	B
76	D	96	C	116	C
77	B	97	B	117	A
78	A	98	A	118	C
79	B	99	C	119	A
80	C	100	B	120	D

## Answer Key

### Part A – General Intelligence

1	D	21	B	41	D
2	A	22	A	42	A
3	A	23	C	43	D
4	C	24	D	44	C
5	D	25	C	45	B
6	D	26	B	46	B
7	D	27	A	47	A
8	C	28	A	48	D
9	D	29	B	49	C
10	C	30	B	50	C
11	C	31	A	51	D
12	A	32	D	52	D
13	C	33	C	53	B
14	C	34	C	54	C
15	C	35	A	55	D
16	B	36	D	56	B
17	A	37	D	57	C
18	B	38	A	58	A
19	B	39	A	59	B
20	D	40	D	60	D